

Corrections

Semaine 2 - Samedi

Leçons à revoir :

1 Calcul mental :

$$3 + 2 + 1 = 6$$

$$4 + 2 + 1 = 7$$

$$2 + 3 + 3 = 8$$

$$1 + 1 + 5 = 7$$

$$2 + 3 + 4 = 9$$





$$2 + 2 + 2 = 6$$

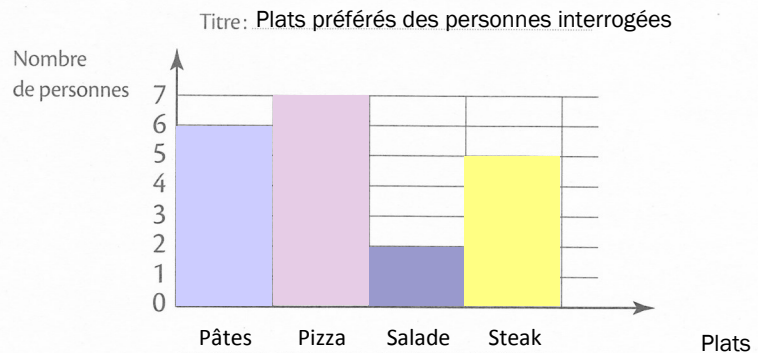
$$3 + 3 + 4 = 10$$

$$4 + 4 + 1 = 9$$

2 On a demandé à plusieurs personnes quel était leur plat préféré.

Observe le tableau des résultats et **complète**-le, puis **complète** le graphique.

Plat préféré	Réponses des personnes interrogées	Total
 Pâtes		6
 Pizza		7
 Salade		2
 Steak		5



Réponds aux questions.

- Quel est le plat que le plus de personnes préfèrent ? La pizza
- Quel est le plat que le moins de personnes préfèrent ? La salade
- Combien de personnes ont été interrogées ? 6 + 7 + 2 + 5 = 20

3 Trouve 5 points alignés et trace la droite qui les relie.

