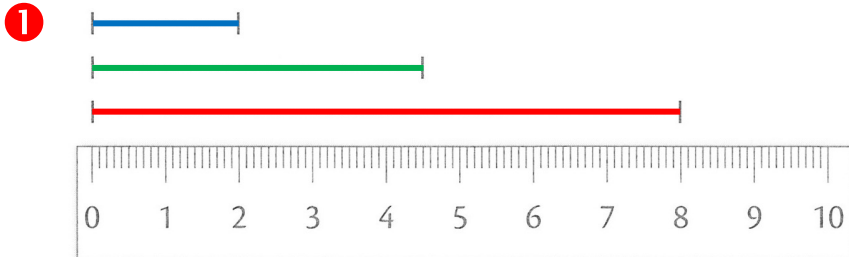



Corrections

Semaine 2 - Vendredi

Leçons à revoir :



Repasse en bleu le segment qui mesure 2 cm.
Repasse en rouge le segment qui mesure 8 cm.
Repasse en vert le segment qui mesure 4 cm et 5 mm.



2 Pose et calcule.

$$263 + 879$$

	1	1		
	2	6	3	
+	8	7	9	
<hr/>				
1	1	4	2	

$$37 + 852 + 7$$

		1		
	3	7		
	8	5	2	
+			7	
<hr/>				
	8	9	6	

3 Écris ces nombres en chiffres.

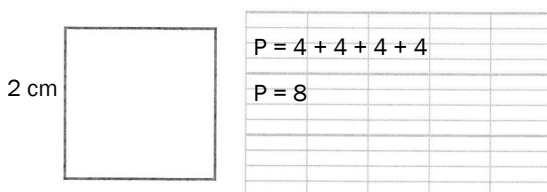
six cent vingt-trois : 623

soixante-treize : 73

quatre cent vingt : 420

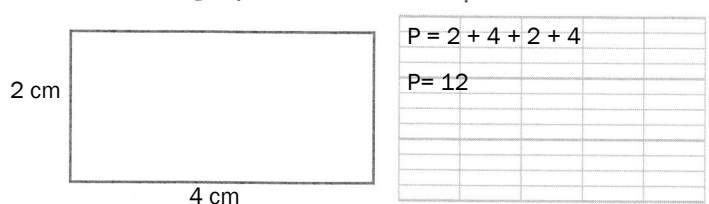
neuf cent quatre-vingt-treize : 993

4 Mesure un côté du carré pour calculer son périmètre.



Le périmètre du carré est 8 cm.

5 Mesure la longueur et la largeur du rectangle pour calculer son périmètre.



Le périmètre du rectangle est 12 cm.

6 Indique le temps des phrases (passé - présent - futur)

On a perdu l'habitude de s'éclairer à la bougie → passé

Les rois de France agrandissaient leur royaume. → passé

Le feu d'artifice débutera à vingt-deux-heures. → futur

Le violoniste accorde son instrument. → présent

Tu joues avec ton circuit automobile. → présent